



01-63-68-27  
(105.16)



# МОСКОВСКИЙ ГОСУДАРСТВЕННЫЙ УНИВЕРСИТЕТ имени М.В.ЛОМОНОСОВА

Вариант 1

Место проведения Москва  
город

## ПИСЬМЕННАЯ РАБОТА

Олимпиада школьников и Ломоносов<sup>а</sup>  
наименование олимпиады

по истории  
профиль олимпиады

Моториной Софьи Павловны  
фамилия, имя, отчество участника (в родительном падеже)

Дата  
«22» марта 2026 года

Подпись участника  
Saintos

хочу вместе с подвластными мне русскими боярами и прочими иметь мир и прочную дружбу с Иоанном, великим цесарем греческим. <...> И никогда не буду посягать на вашу страну... и на Болгарскую землю»

8

Князь	Ярослав Мудрый	Святослав Игоревич	Владимир Мономах
Отрывки (буквы)	се з	ваши	а
	↑	↑ ↑ ↑	↑

**Задание №2. Внимательно рассмотрите изображения Полководцев Великой Победы, прочитайте приведенные ниже отрывки и заполните таблицу.**





- 1) «20 февраля я прибыл в Восточную Пруссию в штаб 3-го Белорусского фронта и 21 февраля вступил в командование. Моя непосредственная работа в войсках этого фронта на протяжении почти всей Белорусской операции... позволила мне быстро освоиться на новом поприще, так как я отлично знал не только руководящий состав фронтового управления, но также армейское и корпусное командование большинства армий»
- 2) «6 сентября в Ельню вошли наши войска. Опасный плацдарм был ликвидирован. В связи с этим я коротко доложил И.В. Сталину итоги Ельнинской операции. <...> Всего за период боев в районе Ельни было разгромлено до пяти дивизий, противник потерял убитыми 45-47 тысяч человек... По показаниям пленных, в некоторых частях минометов и артиллерии не осталось совершенно»

- 3) «30 мая я был вызван в Москву. Вместе со мной прибыли ближайшие сотрудники... Перед войсками Карельского фронта Ставка поставила теперь задачу очистить от финляндских войск Южную Карелию. <...> Наступление войск южного крыла Карельского фронта началось в третью годовщину войны»
- 4) «Хотя предпринятый нами контрудар частями 7-го стрелкового корпуса не оправдал ожиданий, он помешал противнику продвинуться на ольховатском направлении. Это предопределило провал наступления орловской группировки немцев. <...> Не добившись успеха 6 июля в центре и на левом фланге нашей 13-й армии, противник с утра 7 июля перенес основные усилия на Поньры»
- 5) «Докладываю: войска фронта на яском направлении 21 августа [...] года продолжали наступление. Развивая успех прорыва, продвинулись на 10—14 км, расширили фронт прорыва до 65 км и в глубину до 26 км. К 15.00 21 августа обходным маневром и штурмом овладели крупным политическим, экономическим центром Румынии и крупным жел. дор. узлом — городом Яссы»

Изображение (буква)	Полководец	Отрывок (цифра)	Год событий, упомянутых в отрывке
А	Толбузин	5	1944
Б	Черняховский	2	1944 1943
В	Матковский	1	1944
Г	К. Рокоссовский	4	1943
Д	Мерецков	3	1944

Задание №3. Внимательно рассмотрите изображения выдающихся русских композиторов XIX – начала XX вв., ознакомьтесь с приведенным списком фрагментов из написанных ими опер и заполните таблицу.





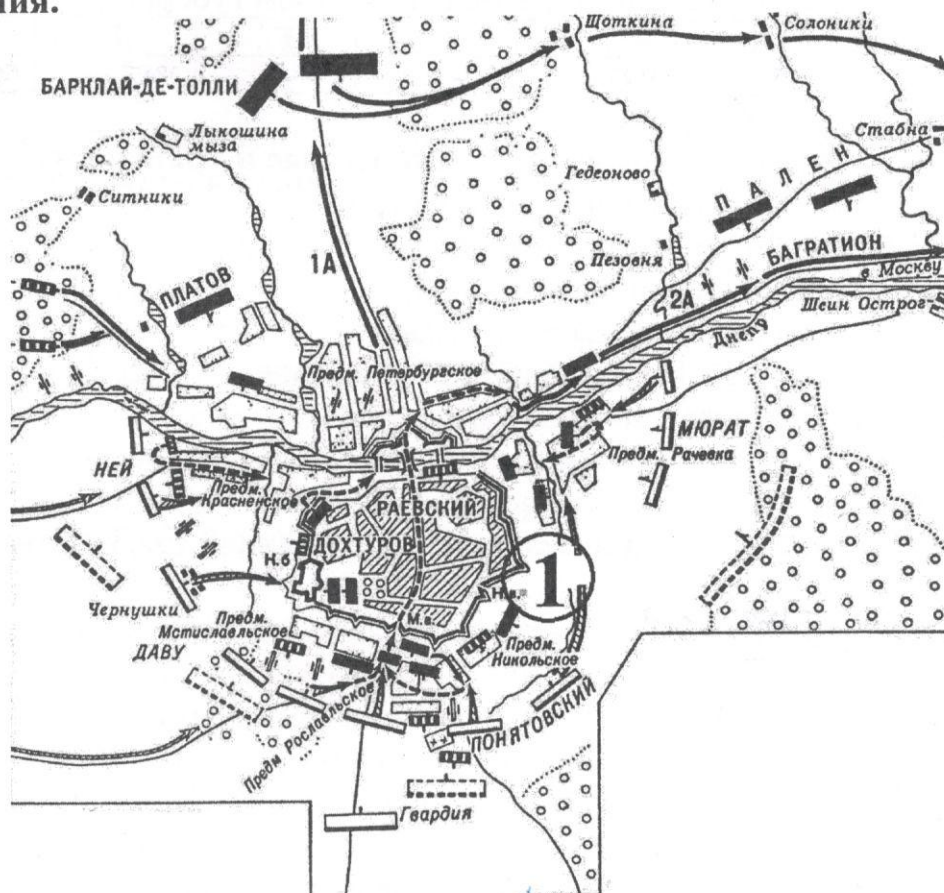
**Фрагменты опер:**

- 1) Половецкая пляска с хором.
- 2) Монолог Шакловитого «Спит стрелецкое гнездо. Спи, русский люд».
- 3) Хор псковичей «Грозный царь идет во великий Псков».
- 4) Ария Германа «Что наша жизнь? Игра!»
- 5) Хор народа «Слався, слався, наш русский царь!»
- 6) Хор девушек «Ходим мы к Арагве светлой».

12

Изображение (буква)	Композитор	Отрывок из оперы (цифра)	Название оперы, из которой взят фрагмент
А	Мусоргский 1	2	Хованщина
Б	Чайковский 1	4	Молодые годы
В	Бородин 1	1	Князь Игорь
Г	Глинка 1	5	Иван Сусанин
Д	Римский-Корсаков 3	1	Псковичи
Е	Рубинштейн 1	6	Арагвский Демон

**Задание №4. Внимательно рассмотрите карту и выполните приведенные ниже задания.**



1. В каком году произошло изображенное на схеме сражение?

Ответ: 1812

2. Назовите город, обозначенный на схеме цифрой 1.

Ответ: Смоленск

3. Укажите российского монарха, при котором произошло сражение на схеме, и годы его(ее) правления.

Ответ: Александр I 1801-1825

4. Укажите название войны, в рамках которой происходило сражение на схеме, и ее временные рамки (с точностью до месяцев начала и завершения).

Ответ: Отечественная война июль-декабрь 1812

5. Верны ли представленные ниже утверждения («ДА» – «НЕТ»)? Ответы внесите в таблицу.

А) На схеме указаны фамилии двух российских полководцев, занимавших в разные годы пост военного министра Российской империи.

Б) Участником сражения на схеме был последний король Речи Посполитой.

В) На схеме обозначен населенный пункт, названный в честь организатора обороны города, обозначенного цифрой 1, в XVII в.

Г) В результате событий на схеме город, обозначенный цифрой 1, был оставлен русской армией.

Д) В том же году, в котором происходили события на схеме, было учреждено сословие почетных граждан.

10

Е) На момент происходивших на схеме событий город, обозначенный цифрой 1, был административным центром губернии.

А	Б	В	Г	Д	Е
мл	кет	га	га	кет	га

↑
↑
↑
↑
↑
↑

**Задание №5. Расположите промышленные и транспортные объекты XVIII – XX в. по хронологии их ввода в строй.**

1. Челябинский тракторный завод.
2. Великий Сибирский путь.
3. Ирбинский железодельный завод.
4. Императорский Тульский оружейный завод.
5. Кондитерская фабрика «Эйнем».
6. Обнинская атомная электростанция.
7. Камский автомобильный завод.
8. Уральский вагоностроительный завод имени Ф. Э. Дзержинского.

Ответ: 35498762

0

Гесб 33



Исходник 2

Для написания эссе по теме следующие задачи:

- 1) определить предпосылки к ускорению социально-экономического развития;
- 2) проанализировать развитие программы при Горбачёве;
- 3) охарактеризовать последствия перехода?

1. По моему мнению, невозможно отрицать влияние этой эпохи <sup>и Андропова</sup> на данную программу.

Так в 1965 была проведена реформа, когда минимум значения дали советским воинам, таким строились поселки городского типа, до сих пор культуры, с которыми. Следовательно, делалось много для улучшения жизни, оставалась лишь одна большая проблема: происходил отток населения в города. Таким образом, города становились более развитыми, а деревни - безлюдными, некоторые, вообще, забрасывались, что мы видим и сейчас, прожитой по России. Про знаменитый интервью-диссидент Рой Медведев в работе «Время...» пишет по реформе наверняка ущерб деревням и их инфраструктуре, несмотря на блага, дарованные им.

Стоит отметить, что с приходом населения в города, приходилось строить новые виды домов. Так, если при Брежнев были крестьянки, то при Горбачеве - брежневки. Отличие лишь в количестве этажей по соотношению к было соотношению с количеством прибывающих. Таким образом, новый тип домов способствовал различному типу людей в городах и их благополучию.

Не могу не сказать об Андропове, который сменил Брежнев. Самый известный факт о нем, что он из КГБ но не могло не повлиять на его превращение. Так, он вел борьбу против бюрократов и коррупции. Одно из самых известных дел - «Косыгин» в Казахстане следовательно, его расширение при всех и местных мирах, которые не забыли своей и пишет об этом в книжках в маленьких книжках.







